


Завдання для дистанційного оцінювання знань з трудового навчання для 9 класу


1. Коли учень повинен приходити на заняття в шкільну майстерню?
 А. Після дозволу вчителя;
 Б. За кілька хвилин до дзвінка;
 В. Після одержання дозволу чергового учня;
 Г. Залежить від виду виконуваних робіт.

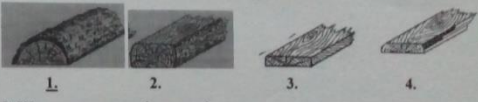
2. Яка з вказаних порід деревини найбільш придатна для виготовлення киянки?
 А. липа;
 Б. верба;
 В. осика;
 Г. сосна
Д. ясен.

3. Який із перерахованих інструментів використовують для чорного стругання деревини?
А. шерхебель;
 Б. Фуганок;
 В. Долото
 Г. Стамеска.


4. Що показує електрولیчильник?
 А. Напругу електричного струму;
 Б. Роботу електричного струму;
 В. Потужність електричного струму;
 Г. Електроенергію.


5. На якому зображенні показано розгортку зрізаного конуса?

 1.
 2.
3.
 4.
 5.
 6.

6. Вкажіть, які розміри деталі вказані на штангенциркулі.

 А. 21,5 мм; Б. 21 мм; В. 21,6 мм; Г. 21,7 мм.

7. На якому із малюнків зображено пластину?

1. 2. 3. 4.

8. Що виготовляють із шпону?
 А. ДСП;
 Б. Фанеру;
 В. ДВП і фанеру;
 Г. МДФ.

9. Який інструмент зображений на малюнку?

 А. Долото;
Б. Рейср;
 В. Стамеска;
 Г. Мейсель.

10. Яке основне призначення «паразитних» шестерень?

А. для зміни напрямку руху веденої шестерні
 Б. для зміни швидкості обертання веденої шестерні
 В. для зміни передаточного відношення
 Г. для зміни передаточного числа

11. Вкажіть для чого призначений бородок:
 А. Для рубання металу;
 Б. Для розмічання заготовок;
В. Для пробивання отворів у тонколистовому металі;
 Г. Для різання жерсті по прямій лінії.

12. Вкажіть для чого призначені пазухи між зубцями пилки?
 А. Для зручності розведення зубців;
 Б. Для загострення зубців пилки;
В. для визначення товщини полотна пилки;